

NAMA : _____

TINGKATAN : _____

PEPERIKSAAN PERCUBAAN SPM 2024**TINGKATAN 5****BAHASA MELAYU****1103/4****KERTAS 4****30 minit****JANGAN BUKA KERTAS PEPERIKSAAN INI SEHINGGA DIBERITAHU****UJIAN MENDENGAR BAHASA MELAYU**

1. *Kertas peperiksaan ini mengandungi empat petikan.*
2. *Jawab semua soalan.*

RUANGAN MARKAH (KEGUNAAN PEMERIKSA SAHAJA)

Petikan	Soalan 1	Soalan 2	Soalan 3	Soalan 4	Soalan 5	Soalan 6	Soalan 7	Markah
1	1	1	1	2	2			7
2	1	1	1	1	1	2		7
3	1	1	1	1	1	1	2	8
4	1	1	1	1	1	1	2	8
JUMLAH MARKAH								30

PETIKAN 1 - CATATAN PENGALAMAN DI KAMPUNG LONEK

Petikan ini mengandungi **lima** soalan.

Jawab soalan-soalan berikut berdasarkan petikan yang diperdengarkan.


1 Kampung Lonek di Negeri Sembilan mempunyai _____ yang sistematik. [1 markah]




2 Lengkapkan rajah berkaitan dengan permainan tradisional di Kampung Lonek.

PERMAINAN TRADISIONAL KAMPUNG LONEK

Aktiviti waktu petang

- ❖ Kelereng
- ❖ _____
- ❖ Boling kelapa



[1 markah]

3 Padankan istilah bagi perbuatan menangkap ikan menggunakan tangan kosong mengikut dialek.

Selangor

menimba

Utara

mengoca

Negeri Sembilan

menggagau

[2 markah]

4 Instrumen caklempong terdiri daripada

- I bangsi
- II bonang
- III gereteh
- IV pengetuk serunai
- A I, II dan III
- B I, II dan IV
- C I, III dan IV
- D II, III dan IV

[1 markah]

5 Tandakan (\surd) bagi pernyataan yang betul dan (X) bagi pernyataan yang salah.

(i)	Kampung Lonek menerima lawatan budaya daripada tujuh orang pelajar antarabangsa selama satu hari.	
(ii)	Permainan tradisional 'mengoca' ikan merupakan permainan yang ditunggu-tunggu oleh para pelajar.	
(iii)	Kuih karas dan kapit dihasilkan di perusahaan kuih tradisional Kampung Lonek.	

[2 markah]

PETIKAN 2 – RENCANA ROTAVIRUS, VIRUS BAHAYA

Petikan ini mengandungi **enam** soalan.

Jawab soalan-soalan berikut berdasarkan petikan yang diperdengarkan.

1 Rotavirus dalam bahasa latin rota bermaksud _____ .

[1 markah]

2 Rotavirus adalah sejenis virus yang menyebabkan kanak-kanak mengalami gejala

(i) cirit-birit

(ii) _____

[1 markah]

3 Gejala Rotavirus ditunjukkan setelah mengambil masa lebih kurang

A 1 hari

B 2 hari

C 5 hari

D 9 hari

[1 markah]

4 Lengkapkan rajah berkaitan dengan gejala penyakit Rotavirus.

PENYAKIT ROTAVIRUS

Apakah gejala penyakit ini?

- muntah
- sakit perut
- cirit-birit
- _____
- demam

[1 markah]

5 *Lengkapkan jadual berkaitan dengan kajian penyakit Rotavirus.*

HASIL KAJIAN	BILANGAN PESAKIT (ORANG)
Rawatan di rumah setiap tahun	14500
Rawatan pesakit luar	_____
Kemasukan ke hospital	31000
Kematian	27

[1 markah]

6 *Tandakan (✓) bagi pernyataan yang betul dan (X) bagi pernyataan yang salah.*

(i)	Kuman Rotavirus akan menjangkiti hampir semua kanak-kanak pada usia 3 hingga 8 tahun.	
(ii)	Rotavirus menyebabkan hampir 22 peratus hingga 50 peratus daripada kes cirit-birit dalam kalangan kanak-kanak di Malaysia.	
(iii)	Anak-anak perlu minum air yang cukup apabila menunjukkan tanda-tanda dehidrasi.	

[2 markah]

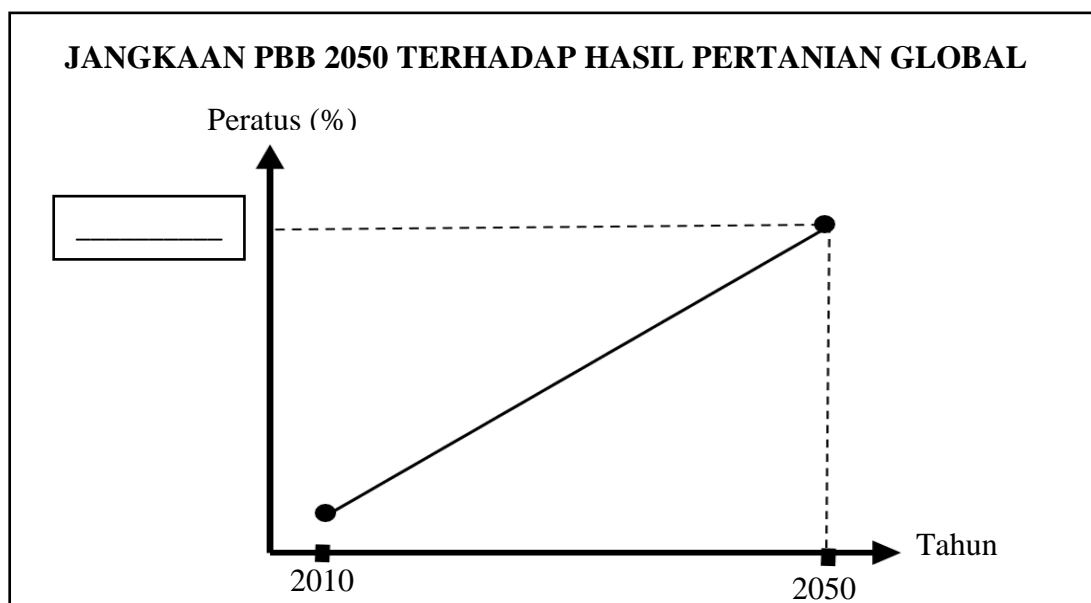
PETIKAN 3 - RENCANA TEKNOLOGI IoT DALAM PERTANIAN PINTAR

Petikan ini mengandungi **tujuh** soalan.

Jawab soalan-soalan berikut berdasarkan petikan yang diperdengarkan.

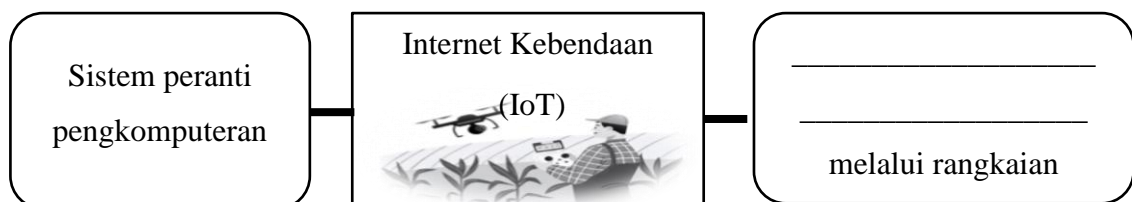
1 Sektor Pertanian menyumbang sekitar _____ peratus Keluaran Dalam Negara Kasar pada tahun 2019. [1 markah]

2 Lengkapkan graf berkaitan dengan jangkaan Pertumbuhan Bangsa-Bangsa Bersatu (PBB) terhadap penghasilan pertanian global.



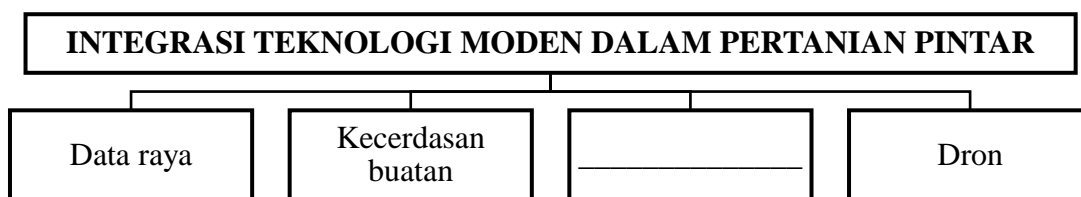
[1 markah]

3 Lengkapkan rajah berkaitan dengan Internet Kebendaan (IoT).



[1 markah]

- 4 Lengkapkan rajah berkaitan dengan integrasi teknologi moden dalam pertanian pintar.



[1 markah]

- 5 Berikut merupakan maklumat yang dikumpul dalam Konsep 'Pertanian Pintar dan Kebun Pintar' **kecuali**

- A jumlah cahaya
- B kelembapan tanah
- C persekitaran tanaman
- D data pemantauan automasi

[1 markah]

- 6 Kelebihan – kelebihan penggunaan IoT kepada perusahaan adalah

- I mencapai penjimatan kos
 - II menambah baik kecekapan
 - III membuat keputusan lebih baik
 - IV mencipta peluang perniagaan baharu
- A I, II dan III
 - B I, II dan IV
 - C I, III dan IV
 - D II, III dan IV

[1 markah]

- 7 Tandakan (√) bagi pernyataan yang berikut.

(i)	Demi produktiviti yang lebih baik, industri pertanian beralih menggunakan Internet Kebendaan (IoT).	BETUL	
		SALAH	
(ii)	Jumlah data yang dikumpulkan menjadi keperluan penting dalam transformasi perniagaan.	BETUL	
		SALAH	

[2 markah]

PETIKAN 4 - BERITA PAMERAN IMMERSIO DI MUZIUM TELEKOM

*Petikan ini mengandungi **tujuh** soalan.*

Jawab soalan-soalan berikut berdasarkan petikan yang diperdengarkan.

- 1 Pameran IMMERSIO 2023 edisi kelima di Muzium Telekom berlangsung pada 15 Disember 2023 hingga _____ . [1 markah]
- 2 *Lengkapkan rajah berkaitan dengan transformasi paparan di Muzium Telekom.*



[1 markah]

- 3 Pameran IMMERSIO 2023 memerlukan
 - (i) lebih daripada 20 artis kebudayaan dan _____
 - (ii) ruang Muzium Telekom seluas 27 ribu kaki persegi

[1 markah]
- 4 Berikut merupakan perspektif kontemporari warisan Asia Tenggara yang ditawarkan dalam pameran IMMERSIO 2023 **kecuali**
 - A tradisi
 - B jalinan
 - C kisah peribadi
 - D identiti budaya

[1 markah]

5 Sebuah 'alam' yang menyentuh pelbagai deria diwujudkan dalam pameran IMMERSIO 2023 agar penonton dapat

- I melakar sebuah harapan
- II melakar sebuah inspirasi
- III mencipta pengalaman yang bermakna
- IV memberikan pengalaman yang menakjubkan
- A I, II dan III
- B I, II dan IV
- C I, III dan IV
- D II, III dan IV

[1 markah]

6 Lengkapkan poster berkaitan dengan pameran IMMERSIO 2023.



[1 markah]

7 Tandakan (✓) bagi pernyataan yang betul dan (X) bagi pernyataan yang salah.

(i)	Pameran IMMERSIO 2023 yang diadakan telah mentransformasikan Muzium Telekom.	
(ii)	Barisan artis yang dinamik iaitu Kurator IMMERSIO 2023 ditampilkan dalam pameran IMMERSIO 2023.	
(iii)	Tiket pameran IMMERSIO 2023 boleh didapati di laman sesawang oleh pengunjung yang berminat untuk melihat pameran tersebut.	

[2 markah]

-KERTAS SOALAN PERCUBAAN SPM TAMAT -